


十二年國民基本教育社會領域 命題評量與教學診斷

114.03.05





出題是一個老師的份內工作，我們有沒有想過……

如果只負責一個領域的試卷您會選擇哪個領域出題

- 1、國語領域
- 2、數學領域
- 3、自然領域
- 4、社會領域
- 5、英語領域

我出一份考題，需要多少時間？

當chatGPT問世後，我們的角色定位在哪裡？

這樣好像真的有點厲害

ChatGPT 之亂：學生用 AI 軟體寫作業，紐約市教育局祭禁令有
用嗎？

丹麥高中反其道而行 鼓勵學生正確使用
ChatGPT

chatGPT在教學上的應用：

輔助自主學習

提供差異化學習支援記錄學生的學習歷史，並藉此提供個人化的學習資源和建議

寫作文寫詩關鍵字提問」，練習有細節的破題。
利用 ChatGPT 生成的文本，帶領學生做4步驟的「閱讀理解」

回覆信件

改作業修改文法錯誤

撰寫教案及教學計劃

文·施雲心 摘錄自 親子天下 《翻轉教育》

老師憂心「看不出誰用ChatGPT作弊」

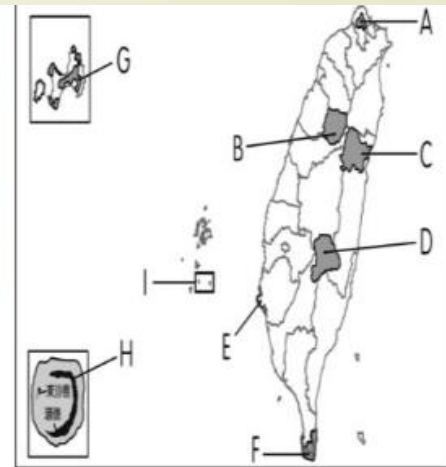
收學生作業傻了：連開頭AI問候都沒刪



圖(一)



圖(二)



圖(三): 臺灣國家公園分配圖

1. () 圖(一)為新臺幣2000元紙鈔的背面，請問紙鈔中是臺灣的哪一種代表性魚類？①吳郭魚 ②櫻花鉤吻鮭 ③臺灣鯛 ④鰻魚。
2. () 承上題，請問該物種可以在圖(三)中哪座國家公園看到？①A國家公園 ②H國家公園 ③D國家公園 ④B國家公園。

評量重點在於我們的國幣有什麼圖案嗎？還是學習的重點在哪個國家公園有什麼物種呢？又或是櫻花鉤吻鮭是臺灣原生種保育類動物呢？

2. 交通部公路總局為了滿足部分地區民眾就學、就醫及洽公的需求，以及達成某項目的，推動「幸福巴士」政策。圖(一)為2019年8月時設有營運路線的行政區分布。根據上述及右圖資訊推論，該目的最可能為下列何者？

- (A)串連北中南的工業園區
- (B)降低高速公路的車流量
- (C)增加高鐵接駁的便利性
- (D)彌補公共運輸網的不足



圖(一)

試題素材情境化（三四年級生活情境）

六、看圖回答問題（10分）

1、請從以下圖片中圈出最少2個屬於個人隱私，未經對方同意不可以擅自翻看的空間。（6分）（空間包括封閉性空間和開放性空間）



五

問題提問

和諧的相處

朗讀

在校園中，每個人都不一樣，我們要學習和別人相處的方法，表達自己意見的同時，也要站在別人的立場著想，理解別人的想法，彼此尊重、和睦相處，才能讓人際關係更和諧。

和諧的相處

班級裡的人際關係

與老師、同學間的相處
關懷與協助
解決爭端
保護自己與他人

平等與尊重

性別平等
尊重他人

3. 請看一下下面的圖畫，假如你是「校說」

2分(4%)

A.

基隆人踹共
1小時 · 說

不好意思，我是小朋友的叔叔
七堵國小有些問題，如果可以藉由您宣導麻煩
您跟我說一下

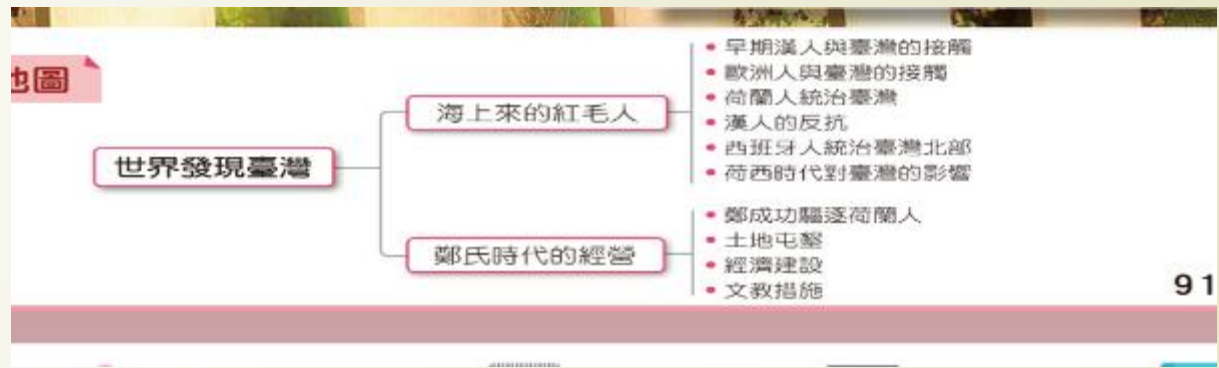
小朋友被同學惡意裝102度熱水潑灑，學校方
處理態度也很消極！

我訂的規範是

我訂的規範是

15. () 竹圍國小的校歌歌詞中有：「一同讀書，一同唱歌，一同遊戲。」這句歌詞告訴我們：學校有許多有趣的學習活動。P.62

五六年級歷史情境



()7.我們蓋的城雖然很小，可能根本就不能算是城.....但我們有很棒的船隻，也善用火砲，所以雖然軍隊數量不多，但這裡的原住民都被我們征服了。我們也在城外設立市場，福建沿海商人頻繁前來和這裡貿易」。這應是哪一次的築城活動？(1西班牙人在基隆地區築城貿易2荷蘭人據臺時在安平地區築城3鄭成功復臺後築的承天府城4英國人在淡水地區修築紅毛城)

上課時要認真學習、參與討論，遇到不懂的地方要勇敢於發問，也可以利用下課時間請教別人員。回家後，可利用圖書館或網路查詢相關資料，解決學習的疑問，也可以和家人分享學習心得。

動動腦
你的學習方法有哪些？



[掛圖](#) [掛圖](#) [知識延伸站](#)

整合運用能力 (閱讀理解)

esa.ntpc.edu.tw

2.請閱讀下列文章，並用紅色標出值得學習，用藍色標出需要改進的各種學習行為或習慣。(請畫出3個學習行為或習慣。值得學習和需要改進都要有)每個2分,6%

阿珠，小學三年級，最大的問題就是不愛寫作業，常常邊寫邊玩。拖拖拉拉不願意做功課。阿珠說他喜歡上課但是不喜歡寫作業。他試著做一張時間表，但是阿珠無法照著時間表做事，所以從來沒有一次是在時間內完成作業。如果遇到他不会的題目，他會去問同學，同學也樂於教他，可是阿珠沒耐心聽。阿珠最喜歡在課堂上發問，他覺得老師上課說的內容都好有趣，但是只要遇到需要寫的功課，阿珠就煩惱得不得了。

整合運用能力 (邏輯推論)

47. 有一首閩南語歌曲「田莊兄哥」，歌詞提到一位南部年輕人要到臺北去打拼賺錢，「不願再聞田莊土味」，「不願再騎犁田水牛」。請問：這位年輕人到臺北的故事背景最有可能是下列哪一時期？(A)臺灣光復初期 (B)土地改革時期 (C)五十年代經濟發展時期 (D)臺商投資中國大陸時期。P39。

() 4. 小華看到一份介紹古文明的資料，大部分字跡已經模糊了，只隱約可見「沙漠」「氾濫」「靈魂不滅」「太陽」「保存遺體」，這份資料最大的可能是介紹下列哪個文化？(1) 非洲文化(2) 亞洲文化(3) 歐洲文化(4) 大洋洲

整合運用能力（歷史解釋）

透過關鍵語詞進行
歷史解釋屬於
學習結果的評量

(二) 請透過下面的關鍵字組合寫成一篇短文，說明「二二八事件」。(使用7個以上關鍵字，短文通順且符合事實得5分；每少一個關鍵字向下遞減加分)

查緝私菸

語言、文化

專賣局

大稻埕

陳儀

官員貪污舞弊

民國36年

臺灣菁英

物價高漲

二二八事件 朗讀 學習點通

民國三十六年，政府因查緝私菸處理失當，引發民眾示威抗議而爆發了二二八事件。事件發生後，由於政府應變措施失當，造成許多社會菁英及無辜民眾的傷亡，對日後臺灣的政治發展、族群融合產生不良的影響。

近年來，政府正視事件所造成的傷害，透過公開道歉、補償受難者家屬、訂定紀念日等措施，希望能撫平歷史的傷痕。



2 二二八和平紀念日活動，透過朗誦詩句，表達對罹難者的追思與懷念。(嘉義市東區)

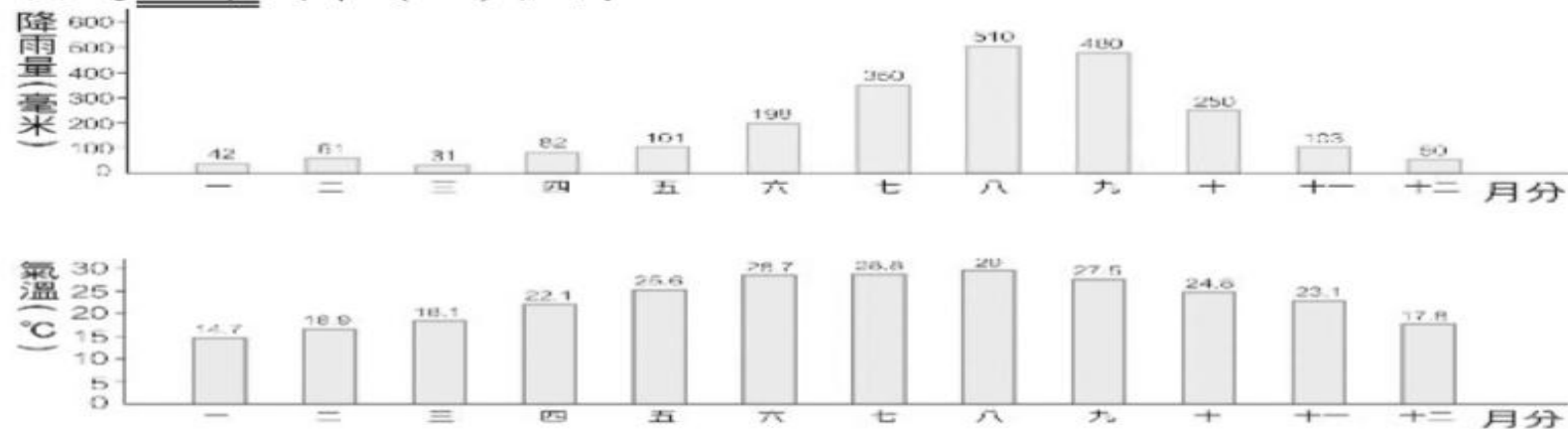
小辭典

二二八事件

民國36年2月27日，緝私人員在臺北查緝私菸時，造成菸販和部分圍觀民眾傷亡。28日，抗議的人群準備向政府陳情，卻遭到開槍射殺，因此，激起了全臺大規模的抗議與衝突。後來，政府以武力鎮壓，造成大批民眾傷亡，也引發後續的衝突事件。

整合運用能力（圖表資訊判讀）

2. 下圖是小賢家鄉去年每月雨量及平均氣溫的統計圖，依圖回答問題，
敘述正確的在（ ）裡打✓：



四年級
家鄉的
氣候
(四上)

- () ①每個月的降雨量都很平均。
() ②夏天須加強防晒。
() ③冬天和春天的雨量較少，容易有缺水的情況。
() ④夏天要做好淹水的預防措施，避免發生水災。
() ⑤小賢家鄉的氣溫在秋天最高。
() ⑥小賢家鄉每個月的降雨量都沒有超過 300 毫米。

18.(3)芒果喜歡高溫潮濕，排水良好的環境，氣溫降到18度C以下時生長緩慢。下列哪個地區可能是芒果的產區1基隆
2淡水3台南4台北。(四下)

13. 棗椰樹屬於棕櫚科植物，主要分布在熱帶乾燥地區，其果實稱為椰棗，既可作糧食，又是製糖的原料。全球有上億棵棗椰樹，其中前兩大分布區為西亞和甲地區，椰棗也成為這些地區重要的出口農產品。上述甲地區最可能為下列何者？
- (A)北非
 - (B)南歐
 - (C)中美洲
 - (D)東南亞

整合運用能力（圖表資訊判讀）

() 16. 中央警官大學近期要籌畫「臺灣現代警察制度」特展，打算以右方海報作為此特展開場介紹。請問：下列哪一句話較可能放置在開場區的介紹詞？(A) 此海報為清領時期美化警察的宣傳海報 (B) 當時民眾跟警察關係親密，相處和諧 (C) 由此海報可看出警察無所不管，主掌地方自治權 (D) 受到民族自決思潮影響，日本政府廢除臺灣警察制度。P21。



1 日治時代警察工作的宣傳海報。警察管理眾多事務，其形象被美化為千手觀音，但實際上是對人民的全面監控。



整合運用能力（圖表資訊判斷）

題目和圖表關聯性太低

新北市今年人口增幅前五名

資料來源：實價網、
大家房屋

製表：游習文
聯合晚報



1. 請將造成人口增加的可能原因打V

- ☐ 出生率下降
- ☐ 死亡率下降
- ☐ 移出人口增加
- ☐ 移入人口增加

2. 人口遷移會造成家鄉的人口變化，請將有關人口遷移所造成的正確敘述打V。

- ☐ ① 青壯年大量移出，會使家鄉勞動人口不足。
- ☐ ② 人口大量移入容易造成家鄉交通擁擠。
- ☐ ③ 鄉村因為就業機會多，所以人口大量移入。

於人口的移入。

3. 扇意一家最近由臺東搬到新北市淡水居住，你覺得最有可能的原因是？（工作機會、公共設施、交通方便……）

請說明你的理由：

淡水人口急速增加，容易使淡水產生什麼問題？

整合運用能力（證據應用辨析）

一、地球村型態的國際社會存在著各種互動關係：**(A)合作**、**(B)依賴**、**(C)衝突**、**(D)競爭**，請判斷下列敘述，各屬於哪一種互動關係，在括弧裡填入正確的代號。（每題1分，10分）

- () 1.台灣與世界各國共同解決SARS問題。
- () 2.台灣汽油受到國際原油價格的影響，油價節節上升。
- () 3.北京奧運聖火傳遞，在歐州地區，遭受當地民眾抗議。
- () 4.宏碁電腦專注於品牌營造，提升產品品質，是全球前十大個人電腦公司。
- () 5.台灣動畫公司協助製作美國迪士尼卡通。
- () 6.美國發生乾旱，小麥減產，造成台灣麵包價格上升。
- () 7.美國發動對伊拉克的戰爭。
- () 8.由於台灣開放國外農產品進口，對國內農產品造成衝擊。
- () 9.台灣與加拿大、巴西等國同步查緝，逮捕國際仿冒軟體集團。
- () 10.台灣股市受到美國股市的影響而下跌。

三年級聰明的消費---需要和想要是相對性的

朗讀

重點

觀念釐清

掛圖

問題提問

學習e點通

動畫

而「想要」的物×品，不一定_是我們_自生_活的必需品，例如_是：電腦_遊戲_、玩_偶等_。

每個_人的_角色_及生_活方_式不_同，在_購買_同一個_物×_品的_時候_，對_自己_來說_可能_是「想要」，對_別人_來說_卻是_「需_{要」。}

消_費前_要謹_慎思_考判_斷，先_購買_「需_{要」}的_物×_品，有_多餘_的金_錢時_再購_買「想要」的_物×_品。有_些物_×品，即_使價_格便_宜也_不能_隨意_一購_買，避_免不_必要_的浪_費。

圖意

⑤ 消_費理_由

2

☐ 需_要

☐ 想_要

我的_舊球_鞋磨_壞了，要_買雙_新球_鞋。



舊_球鞋_。



圖意

⑤ 消_費理_由

3

☐ 需_要

☐ 想_要

真_好看_！

好_羨慕_！



雖然_我已_經有_一雙_球鞋_，但_這雙_鞋很_酷，穿_去學_校，同_學一_定會_羨慕_我。

強化評量層次及表達說明能力（題組結構）

三、消費與生活(每格二分,共三十四分)

竹圍國小四月二十二日要舉辦「世界地球日跳蚤市場英文購物」活動,三年級小朋友都要參加擺攤,各班級除了努力將二手商品進行清洗整理並進行分類外,為了增加收入,各班都努力製作宣傳海報,並在海報寫上商品名稱和特色介紹的廣告詞,也標上打折和特價的消息來吸引顧客。請各位小朋友當天要記得

1. 下列關於交易工具的敘述,正確的請在 () 中打✓。

- (✓) ①紙鈔可以直接消費。
(✓) ②現在最新的交易方式是行動支付。
() ③只有百貨公司才可以發行禮券。
(✓) ④儲值卡裡必須先存錢,才可以消費。

2. 在文章中,竹圍國小三年級的小朋友的海報,採用了什麼推銷方式?

- ☐誇大功能
☒商品介紹
☒打折促銷
☐大家都有買

3. 在這次的活動中,你也可以帶50-100元的現金來進行採購,請試著在採購前,先完成你的採購計劃表

所使用的交易工具	鈔票和硬幣
想購買的商品	毛巾
購買原因	因為今天很熱,需要毛巾擦汗

4. (4) 身為一個聰明的消費者,我們應該具備下列哪一種態度? ①看到打折的東西,不管有沒有需要都先買再說 ②廣告說的都一定是正確的 ③同學有買的,我也一定要有 ④如果金錢有限,先買有需要的物品。

5. 301 的同學在這次活動中,都買到自己喜歡的玩具,但潔陵老師喜歡的玩具都被別人買走了,因此覺得很難過,請你以「需要」和「想要」的觀念來安慰她。

玩具是你需要的,你是想要,你可以買別的啊,
你可以買你需要的東西,不要買玩具也可以,
為玩具你可能會玩得不開心了。

跨單元 / 跨領域/跨學科的主題式試題設問

國語第 2 課〈海洋朝聖者〉夏曼.藍波安說：「他微笑的說：「這兒的海域，在上弦月漲潮期間之流向，是由東往西；下弦月時，是由西向東。老弟你要射魚，先要了解月亮與潮水的關係，不過一定要自己去嘗試，才能領悟出男人潛水射魚之桀驁。」」從這些話我們可以體會到原住民文化中的哪個部分？(①分享的傳統 ②祖靈 的崇拜 ③生態的智慧 ④宗教的禁忌)



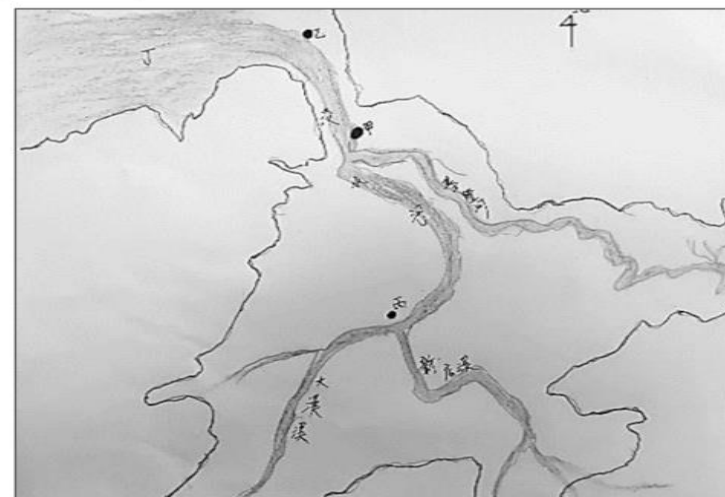
esa.ntpc.edu.tw



③既使未來疫情得到控制，我也要做好衛生管理。

④他不但精通英、日語，更何況德語卻說得十分流利。

5. ()原住民山貓划著小船從大漢溪順流而下，他先在江子翠換搭來自新店溪的貨船，之後貨船往前行駛，直到關渡再換一艘從基隆河航行而來的大船，接著就一路順風，終於在淡水沙崙附近的油車口進入臺灣海峽。根據以上文字和右圖，下列描述何者正確？①甲是關渡 ②乙是江子翠 ③丙是臺灣海峽 ④丁是油車口



跨單元 / 跨領域/跨學科的主題式試題設問

歷史上各民族和國家經歷了相互孤立隔絕到彼此交流融合的過程，東西方文化的交流從很早就開始。透過商人、外交使節、遊歷者或文人學者的來往，各地文化發生了直接或間接的傳播。但和平交往並非是文化交流的唯一方式，在古代戰爭和征服雖然帶來災難和痛苦的同時，也不自覺充當了文化交流的工具。

1.根據上面文章，請「歸納」古代人類文化交流的兩種主要方式。4%

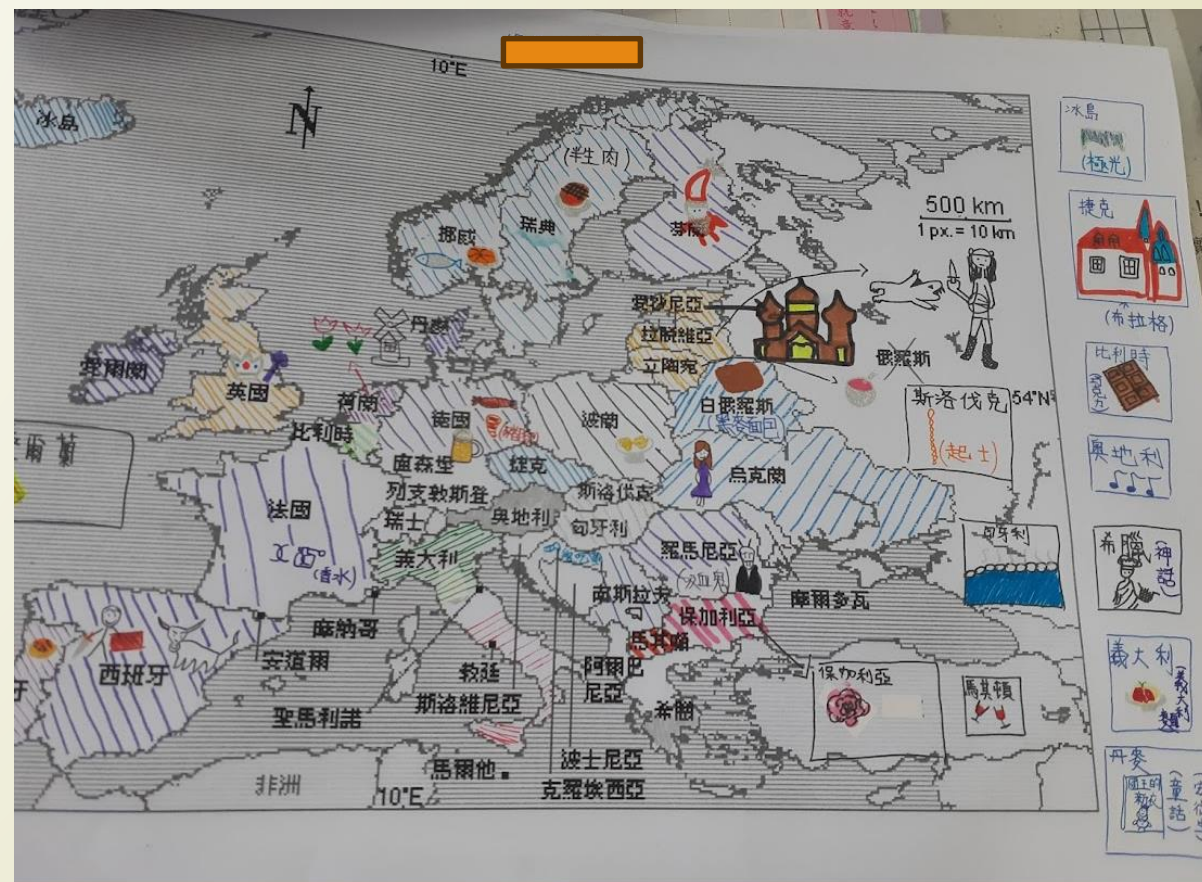
答:武力、非武力 (政府、民間) (想賺錢、追求夢想)

2.結合所學的知識，請從上面文章舉出文化交流的方式，自選兩種，寫出相關的歷史事件。4%

答:商人:臺灣茶外銷、戰爭:日本佔領臺灣影響臺灣人生活習慣

3.根據文章及所學知識，請寫出哪一種文化交流方式，更有利於人類文明的發展，並說明理由。4%

期待：(1. 自己做圖表 2. 蒐集資料 3. 按圖表出題)



❓ 跨單元 / 跨領域/跨學科的主題式試題設問

□ (正在努力嘗試中)

112會考題目



14. 圖(六)的詩為唐代詩人登上今湖北襄陽的一座山頭，見石碑碑文有感而發之作。詩中「水落魚梁淺」指山腳下的魚梁沙洲因水位變化而露出水面，作者藉以說明環境與世事的變化。關於形成「水落魚梁淺」現象的原因，下列推論何者最為適切？

- (A)沙洲上游融冰增加造成水位升降
(B)季節性降水差異產生的水位變化
(C)海平面上升海水入侵內陸造成水位改變
(D)在沙洲下游河段興築大型堤壩導致水位的變化

與諸子登岷山 孟浩然
人事有代謝，往來成古今。
江山留勝蹟，我輩復登臨。
水落魚梁淺，天寒夢澤深。
羊公碑字在，讀罷淚沾襟。

圖(六)

112年會考社會科單題與題組總題數54題，文字題29題、圖表題25題占總題數46%。因此有部分試題出現文字較多，為符合素養導向題型需鋪陳情境

試看會考試題與素養導向

<https://drive.google.com/file/d/1ykeQ7UnU1bdBXQ8X3oFskg1Rlr4JtUbE/view>

—— 結語 ——

「命題」是教師的專業
展現

被人尊重與珍惜

是因為 我們不可被取代



113國小社會輔導團

