

十二年國民基本教育社會領域 素養導向評量的命題策略

素養導向學習評量意涵

一、國民中小學學生成績評量原則（教育部，2017）

（一）目標：應符合教育目的之正當性。

（二）對象：應兼顧適性化及彈性調整。

（三）時機：應兼顧平時及定期。

（四）方法：應符合紙筆測驗使用頻率最小化。

（五）結果解釋：應標準參照為主，常模參照為輔。

（六）結果功能：應形成性及總結性功能並重；必要時應兼顧診斷性及安置性功能。

（七）結果呈現：應質性描述及客觀數據並重。

題型的選定

類 型

- 是非
- 選擇/**連連看**/配合題
- **填充**/簡答
- 解釋性題型

運 用

- 任何題目型式，都有其應用的價值。
- 依據教學目標以及教材內容，選用適宜的題型。
- 題目型式，應該配合年級與學生背景。

考卷的配分

- 依上課節數

- 以本次考試範圍的總上課節數除以課數來定
- 例如:共有20節課，則每節課上課範圍則佔5分

- 依學習目標

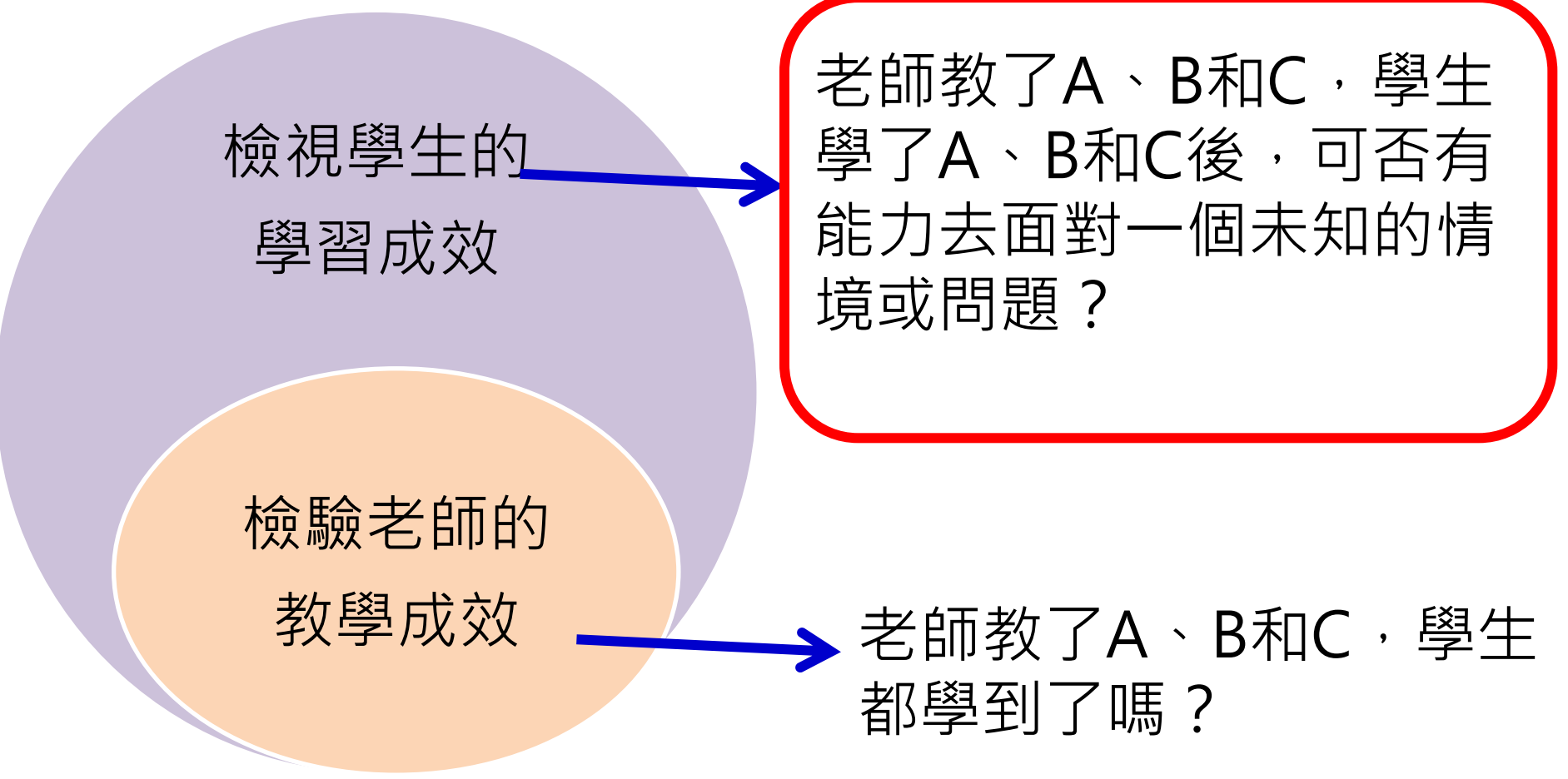
- 以本次考試範圍的學習目標數來定
- 例如:共有10個學習目標則每個目標考10分

檢核的方式-雙向細目表

- 檢核題型/難易度的分布

[illegible]

你所期待的評量目的




檢視學生的
學習成效

老師教了A、B和C，學生
學了A、B和C後，可否有
能力去面對一個未知的情
境或問題？


檢驗老師的
教學成效

老師教了A、B和C，學生
都學到了嗎？

 三立新聞 HD

破裂
雙宋兩年婚姻破碎
兩人進行離婚調解

AQI指標 | 苗栗 良好
現在溫度 | 苗栗 32.0℃

 投


五、小強的爸爸是鹿谷鄉鹿谷村的村幹事，平時工作非常忙碌。

甲、下列哪一個是村幹事的產生方式？ ①鄉公所指派 ②村長指派 ③居民抽籤 ④居民推選

答：(1)

乙、村幹事具有下列哪一身份？ ①公務人員 ②公務人員 ③律師 ④醫生

答：(1)

 三立新聞網

小三生社會不及格 校方急補考惹怨

訂閱

學校的希望

明天要發生的事

終主任的叮嚀

- 圖片文字不能隨便做過
- 一
- 版面清
- 每題的
-

千萬千萬不要
讓家長來投訴

你是哪一種出題老師？

題目 內容	1.課文內容有的	2.符合課本學習重點	3.參考手冊評量目標
題目 來源	1.直接COPY命題光碟	2.修改命題光碟題目	3.全部自編題目

類型

圖片

設立目的

分布位置



動植物資源-以國家公園為例

- 以下哪一個國家公園為在臺灣本島？**①**台江國家公園 **②**東沙環礁國家公園 **③**澎湖南方四島國家公園 **④**金門國家公園

本課的學習重點是？

- 臺灣國家公園分布的位置？
- 本島離島有哪些國家公園？
- 國家公園設立的目的？
- 不同國家公園的特色

1.修改題目

國家公園成立的目的是保護自然景觀及史蹟，以下哪一個國家公園中有國家級的濕地？ **① ② ③ ④**

2.修改題型，改成是非題

國家公園設立的目的的是為了讓大家可以觀賞外來種的動植物。



題目內容2:根據學習重點

海洋是最大的水資源，隨著科技發展，海水用途更廣。早期人們以海水製鹽，鹽業在臺灣發展已久。現在，臺灣淡化海水的技術成熟，可改善部分離島地區的缺水問題。

海運雖然速度慢，但有成本低、載量大的優點。臺灣的海運事業頗為發達，貨櫃輪往來於世界各洲，形成全球化的海上交通網路。



4 臺灣傳統的晒鹽業因成本過高，現已轉型為觀光產業。



5 政府在澎湖縣興建海水淡化廠，以穩定供應用水。



1. 了解臺灣海洋資源與土地利用情形。
2. 認識臺灣野生動、植物，並培養生態保育的態度。
3. 了解臺灣農、林、漁、牧、礦產業的發展概況。

海洋資源-以海水淡化為例

- ()目前臺灣淡化海水的技術成熟，可以改善部分離島地區的缺水問題。例如:政府在金門興建海水淡化廠，以穩定供應用水。



本課的學習重點是？

- 臺灣哪裡有海水淡化廠？
- 臺灣如何運用海洋資源？
- 如何用海水資源改善離島地區缺水問題？



1.改成選擇題

臺灣海洋資源豐富，以下哪些是目前常見的利用方式❶❷..？

2.改成問答題

臺灣如何運用海水資源改善離島缺水問題，請舉例說明。

題目內容:3參考教學目標或評量重點

能力指標

- 3-3-4 分辨某一組事物之間的關係是屬於「因果」或「互動」。
- 9-3-3 舉例說明國際間因利益競爭而造成衝突、對立與結盟。
- 9-3-5 列舉主要的國際組織(如聯合國、紅十字會、世界貿易組織等)及其宗旨。

教學目標


- 1.了解國際組織的目的與類型。
- 2.探討世界主要國際組織成立的原因及宗旨。
- 3.認識臺灣目前參與各類國際組織的情形。
- 4.了解臺灣目前的國際處境與未來努力方向。

評量重點

- 1-1 能說出國際組織成立的目的。
- 1-2 能說出國際組織的主要類型。
- 2-1 能舉出世界主要政府的國際組織。
- 2-2 能舉出世界主要非政府的國際組織。
- 2-3 能舉例說明世界各主要國際組織成立的原因及宗旨。
- 3-1 能舉例說明臺灣目前已參與的國際組織與現況。
- 4-1 能說出臺灣目前的國際處境。
- 4-2 能說出臺灣應如何突破國際困境，積極參與國際社會。

國際組織-以聯合國為例

- 為了解決以色列與黎巴嫩兩國的衝突事件，聯合國派出()部隊進駐黎巴嫩南部地區。



本課的學習重點是？

- 聯合國部隊名稱
- 聯合國成立宗旨
- 聯合國做什麼事



以色列和黎巴嫩兩國發生衝突時，聯合國積極介入調停並派出維和部隊進駐黎巴嫩南部地區。由此可見，聯合國成立的目的是()。

聯合國成立的目的是()。

國際組織-世界衛生組織

無

擷取自 中央通訊社唐佩君 2019.5.07報導

世界衛生大會（WHA）將於20日舉行，臺灣從2009年起連續8年以_____身分受邀出席WHA，並以「中華台北」名義出席，然而從2017年起，臺灣連續3年未受邀，不過外交部表示仍將努力到最後一刻，若世衛組織同意邀請臺灣，仍可透過特殊安排讓臺灣完成報名程序。眼看今年會議期限逼近，迄今世界衛生組織秘書處不見轉變態度跡象，顯然今年連續第3年叩關失利。

＊請問空格中用什麼？

1觀察員 2記錄員 3衛生員 4研究員。

本課的學習重點是？

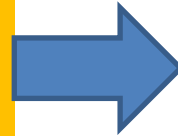
- 臺灣以何種WHA的受邀身分？
- 臺灣為何不再以觀察員身分受邀WHA？
- 臺灣如何突破困境積極加入國際組織？

- 請從文章中找證據並在該文字下畫底線
 - 臺灣以往以何種身分受邀WHA？
 - 臺灣今年受邀了嗎？
☐有 ☐沒有
- 為何臺灣想加入這個國際組織？加入後對臺灣有何影響？

全球關聯-以911為例

- 在美國911事件中遭到飛機撞毀的是紐約的哪一棟建築物？

1. 世貿大樓
2. 帝國大廈
3. 五角大廈
4. 自由女神像



學生學習的重點是？

- 911毀損大樓的名稱？
- 為何會發生911事件？
- 911事件對世界的影響？



在美國發生的911恐怖攻擊事件，撞毀紐約的世貿大樓，造成許多人傷亡。其事件發生的原因可能是因為：

1. **伊斯蘭教文明和西方文明之間的文化衝突所引發**
2. 歐盟間國家的經濟衝突
3. 歐洲國家高層想教訓美國
4. 恐怖分子想教訓世貿大樓裡的金融業人員

全球環境-以全球暖化為例 2018-03-21

世界銀行昨日發布一份新報告指出，近年來氣候暖化問題加劇，常出現水資源短缺、農作物歉收和海平面上升的情形，讓人民必須遷移到更適合居住的地方生活。世界銀行警告，除非環境獲得改善，否則預計在 2050 年可能導致多達 1.43 億人流離失所，成為氣候難民。

世界銀行氣候變化高級主管約翰羅梅 (John Roome) 表示，氣候變化引起的大規模移民潮將成為現實，如果現在採取適當、大膽的措施，移民潮並不一定成為危機。

原文



1. 從上文推測造成全球氣候異常是什麼情況？
2. 以上的情況，還有可能導致什麼問題，請再舉出兩個。
3. 請舉出水資源短缺兩個可能導致的問題。

修改為



1. 請依據上文找出全球氣候暖化問題，會出現何種情形？請寫出三個。(提取訊息)
2. 從以上情形裡，若環境未獲得改善，將會導致什麼問題？(推論訊息)
3. 為改善環境，請舉出一個實際具體作法來維護環境及永續經營。(整合評估)

【題組題】

全球議題-人權之女性受教權

(一)請閱讀故事並回答下列問題。

西元 1997 年，馬拉拉出生於巴基斯坦，雖然這是一個傳統保守的國家，但她有一個開明的校長父親在教導她。2008 年時，塔利班組織占領了她的家鄉並頒布了許多新規定，其中禁止女孩受教育。馬拉拉認為這項規定不合理，所以塔利班有能剝奪她的受教權，並透過網路為當地民羅致聲援，後引起國際

外
命
站

1.文章內容與題目的關聯性何在？

2.如果去除文章，學生能回答嗎？

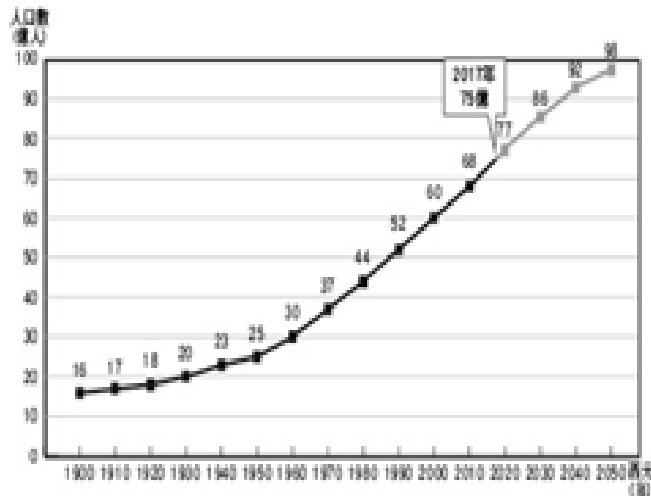
1.()怕對於成人，兒童是較為弱勢的族群，經常遭受不公平對待，因此在部分國家會出現哪一種現象？
1 兒童被迫在惡劣的環境下工作
2 兒童享有法律保障的權益
3 兒童成為政治人物拉攏的對象。

2.()兒童、婦女等通常在社會上處於哪一種地位，需要多加保護他們的權益？
1 特權階級
2 多數族群
3 弱勢族群。

國際關聯-以人口與資源為例

下圖是從西元1900年以來世界人口數的變化圖，包含了對未來人口的預測。然而當前臺灣的人口政策與全球的人口政策有所不同，請你寫出其中不同的地方。

命題老師想考：
臺灣和世界人口政策不同的原因

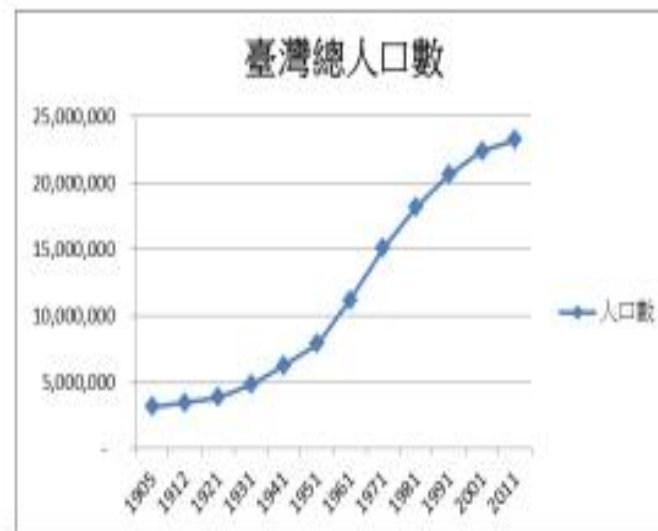
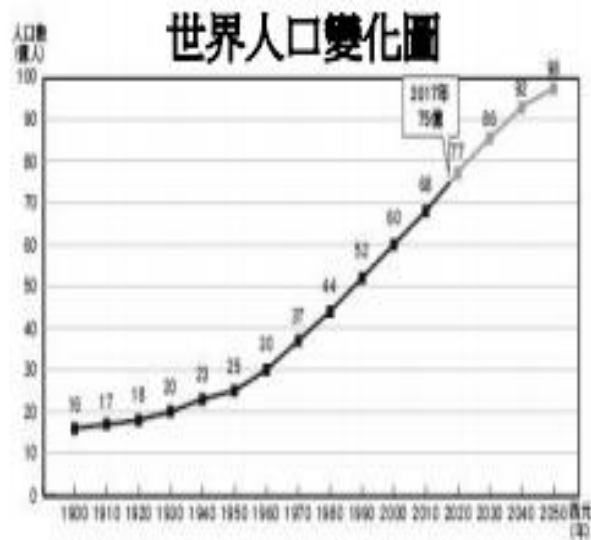


思考：

圖表能提供提問的訊息嗎？

題目和提問的連結是什麼？

【題組題】



左圖是從西元 1900 年以來世界人口數的變化圖，包含了對未來人口的預測。請回答以下問題

() ()

() ()

() ()

1.圖表學生看得清楚嗎？

2.人口現象和人口政策相同嗎？

速度緩

化現象

所有地區
也會採行

不同的人口政策。

(4)當前臺灣的人口現象與全球的人口現象有所不同，請你寫出其中相同及不同的現象。(4分)

相同：_____

不同：_____

如果你跟我一樣，只是平凡人

- 依據教學目標修改光碟的題目/題型也很好
 - 別把社會科當國語科來考
 - 想清楚自己到底想考什麼
 - 題組題從簡單到難慢慢問
 - 文章或圖表要和題目連結

如果你有偶包，要自己命題

- 從學生生活經驗出發
 - 考慮學生年齡程度
- 連結時事或流行議題
 - 網路新聞適度改寫
 - 圖和表要重新畫過
 - 只出現必要的訊息
 - 不要為時事而時事